

Time: 10 Minutes	Paper Math 6 (T-1)	Total Marks: 10
4th Month, 1st Week, 4th Day	Exercise 8.1 Q # (9, 10)	

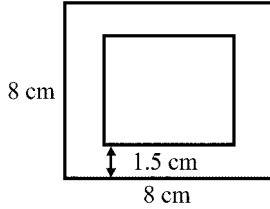
☆ Answer the following questions: درج ذیل سوالات کے جواب دیں۔

Q.1. The length of rectangular field is 60m and breadth is 50m. A girl wants to fence the field. The cost of fencing the field is Rs. 108 per metre. Find the total cost of fencing the field. (1x5=5)

مربعی نما کھیت کی لمبائی 60 میٹر اور چوڑائی 50 میٹر ہے۔ ایک لڑکی کھیت کے ارد گرد جالی لگانا چاہتی ہے۔ جالی لگانے کی قیمت 108 روپے فی میٹر ہے۔ پورے کھیت میں جالی لگانے کی قیمت معلوم کریں۔

Q.2. Find the area of the shaded part of the given shape. (1x5=5)

دی گئی شکل میں رنگ دار حصے کا رقبہ معلوم کریں۔



Time: 10 Minutes	Paper Math 6 (T-1)	Total Marks: 10
4th Month, 1st Week, 4th Day	Exercise 8.1 Q # (9, 10)	

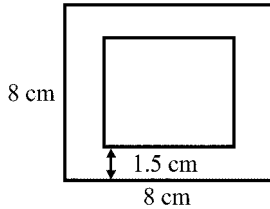
☆ Answer the following questions: درج ذیل سوالات کے جواب دیں۔

Q.1. The length of rectangular field is 60m and breadth is 50m. A girl wants to fence the field. The cost of fencing the field is Rs. 108 per metre. Find the total cost of fencing the field. (1x5=5)

مربعی نما کھیت کی لمبائی 60 میٹر اور چوڑائی 50 میٹر ہے۔ ایک لڑکی کھیت کے ارد گرد جالی لگانا چاہتی ہے۔ جالی لگانے کی قیمت 108 روپے فی میٹر ہے۔ پورے کھیت میں جالی لگانے کی قیمت معلوم کریں۔

Q.2. Find the area of the shaded part of the given shape. (1x5=5)

دی گئی شکل میں رنگ دار حصے کا رقبہ معلوم کریں۔



Time: 10 Minutes	Paper Math 6 (T-1)	Total Marks: 10
4th Month, 1st Week, 4th Day	Exercise 8.1 Q # (9, 10)	

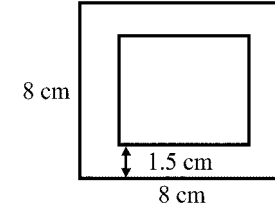
☆ Answer the following questions: درج ذیل سوالات کے جواب دیں۔

Q.1. The length of rectangular field is 60m and breadth is 50m. A girl wants to fence the field. The cost of fencing the field is Rs. 108 per metre. Find the total cost of fencing the field. (1x5=5)

مربعی نما کھیت کی لمبائی 60 میٹر اور چوڑائی 50 میٹر ہے۔ ایک لڑکی کھیت کے ارد گرد جالی لگانا چاہتی ہے۔ جالی لگانے کی قیمت 108 روپے فی میٹر ہے۔ پورے کھیت میں جالی لگانے کی قیمت معلوم کریں۔

Q.2. Find the area of the shaded part of the given shape. (1x5=5)

دی گئی شکل میں رنگ دار حصے کا رقبہ معلوم کریں۔



Time: 10 Minutes	Paper Math 6 (T-1)	Total Marks: 10
4th Month, 1st Week, 4th Day	Exercise 8.1 Q # (9, 10)	

☆ Answer the following questions: درج ذیل سوالات کے جواب دیں۔

Q.1. The length of rectangular field is 60m and breadth is 50m. A girl wants to fence the field. The cost of fencing the field is Rs. 108 per metre. Find the total cost of fencing the field. (1x5=5)

مربعی نما کھیت کی لمبائی 60 میٹر اور چوڑائی 50 میٹر ہے۔ ایک لڑکی کھیت کے ارد گرد جالی لگانا چاہتی ہے۔ جالی لگانے کی قیمت 108 روپے فی میٹر ہے۔ پورے کھیت میں جالی لگانے کی قیمت معلوم کریں۔

Q.2. Find the area of the shaded part of the given shape. (1x5=5)

دی گئی شکل میں رنگ دار حصے کا رقبہ معلوم کریں۔

